


## ЗАМЕНА МЕСТА ЧИНИЛАЦА

1. Колико има лимунова?  
Израчунај на два начина.

Рачунам: \_\_\_\_\_

Рачунам: \_\_\_\_\_

Одговор: \_\_\_\_\_




2. Колико укупно има мишева?  
Израчунај на два начина.

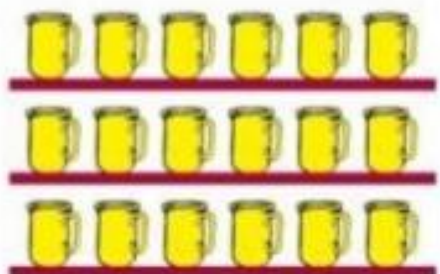
Рачунам: \_\_\_\_\_

Рачунам: \_\_\_\_\_

Одговор: \_\_\_\_\_



3. Израчунај на два начина.



$$3 \cdot 6 = \underline{\quad} \cdot \underline{\quad} = \underline{\quad}$$



$$8 \cdot 4 = \underline{\quad} \cdot \underline{\quad} = \underline{\quad}$$